

5- المرايا والعدسات

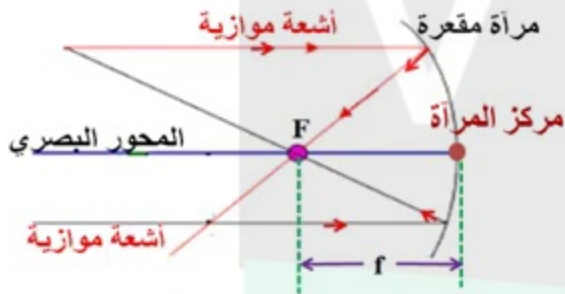
مراجعة أسئلة - المرايا

العلوم

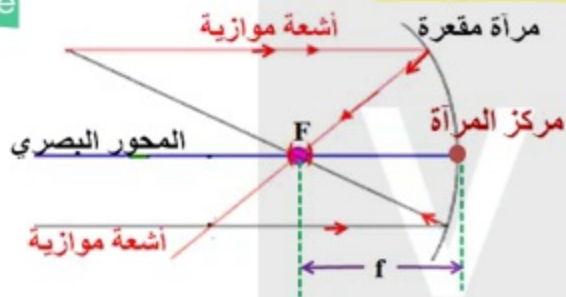
الصف الثامن

إعداد / راجح شعبان

2- صف سمات المرآة المقعرة



2- صف سمات المرآة المقعرة / تابع

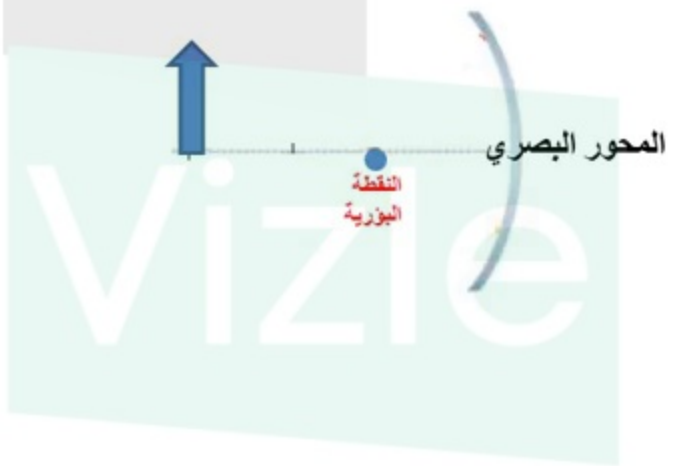


النقطة البؤرية F

أسئلة ص 175

1- أنشئ رسماً تخطيطاً يوضح كيف تكون المرايا المقعرة والمحدبة الصور.

المرايا المقعرة



1- أنشئ رسماً تخطيطياً يوضح كيف تكون المرايا المقعرة والمحدبة الصور.

المراة المحدبة



2- حدد مثلاً واحداً لكل من المرأة المستوية والمقعرة والمحدبة

| نوع المرأة | مثال |
|------------|------|
| المستوية | |
| المقعرة | |
| المحدبة | |

3- صف صورة جسم **يبعد 38 cm** عن مرآة مقعرة
بعدها البؤري 10 cm

Vizle

5- يبعد جسم عن مرآة مقعرة مسافة أقل من البعد البؤري للمرأة . كيف يتغير حجم الصورة كلما اقترب الجسم من المرأة ؟



Vizle

6- إذا كنت تبعد 2m عن مرآة مستوية، فكم ستبعد صور
عنك؟



This PDF is generated automatically by **Vizle**.
Slides created *only for a few minutes* of your Video.



For the full PDF, please **Login to Vizle**.

<https://vizle.offnote.co> (Login via Google, top-right)

Stay connected with us:

Join us on **Facebook, Discord, Quora, Telegram**.